



UNIVERSITÀ DI PISA
DIPARTIMENTO DI INGEGNERIA DELLA INFORMAZIONE

Prova scritta di Teoria dei Segnali- 1/02/2018 – Fila A

Esercizio 1. E' dato il segnale $x(t)$ ad energia finita il cui spettro è pari a $X(f) = \text{tr}\left(\frac{f}{2B}\right)$. Il segnale $x(t)$ costituisce l'ingresso di un sistema LTI la cui risposta impulsiva è data da $h(t) = -\frac{1}{2}\delta(t-T) + \delta\left(t - \frac{T}{2}\right) + -\frac{1}{2}\delta(t)$.

- 1) Calcolare energia e potenza di $x(t)$;
- 2) Calcolare $H(f)$ e farne il grafico di modulo e fase;
- 3) Calcolare l'espressione $y(t)$ del segnale di uscita del sistema LTI e farne il grafico per $B = \frac{2}{T}$;
- 4) Che tipo di distorsioni lineari subisce il segnale $x(t)$ a causa di $h(t)$ e perché?

Esercizio 2 Sia dato il seguente filtro analogico causale: $H_a(s) = \frac{5}{(s+2k)}$ con k costante

reale positiva.

- 1) Si calcolino la risposta in frequenza del suddetto filtro e la banda a -3dB in funzione di k .

A partire dal filtro analogico si vuole progettare un filtro numerico con simili caratteristiche. A tal fine si utilizza la trasformazione bilineare con $T=1\text{msec}$.

- 2) Si scriva la funzione di trasferimento del nuovo filtro e se ne individui la zona di convergenza.
- 3) Si scriva l'espressione della risposta impulsiva $h(n)$ e si faccia il grafico della forma canonica.
- 4) Si calcoli il valore di k nel filtro analogico sapendo che la banda a -3dB del filtro numerico precedentemente ottenuto deve essere pari a $B=1/3 \text{ KHz } (\approx 333 \text{ Hz})$.

Esercizio 3. Si dimostri che la trasformata del segnale $z(t) = x(t) \otimes y(t)$ è pari a $Z(f) = X(f)Y(f)$ (teorema della convoluzione). Tramite questo teorema di dimostri poi che se $z(t) = \text{tr}\left(\frac{t}{2T}\right)$, $Z(f) = T\text{sinc}^2(fT)$.

Soluzione es. 1 -

1) Se $X(f) = tr\left(\frac{f}{2B}\right)$, $x(t) = B\text{sinc}^2(Bt)$. Per calcolare la potenza conviene applicare il teorema di Parseval

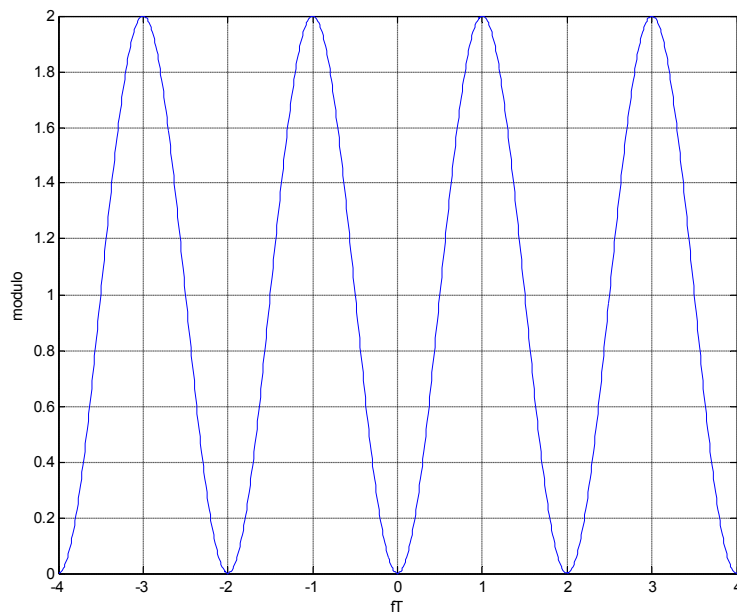
$$E_x = \int_{-\infty}^{+\infty} |X(f)|^2 df = \int_{-B}^{+B} \left(1 - \frac{|f|}{B}\right)^2 df = 2 \int_0^{+B} \left(1 - \frac{f}{B}\right)^2 df = \frac{2}{3}B$$

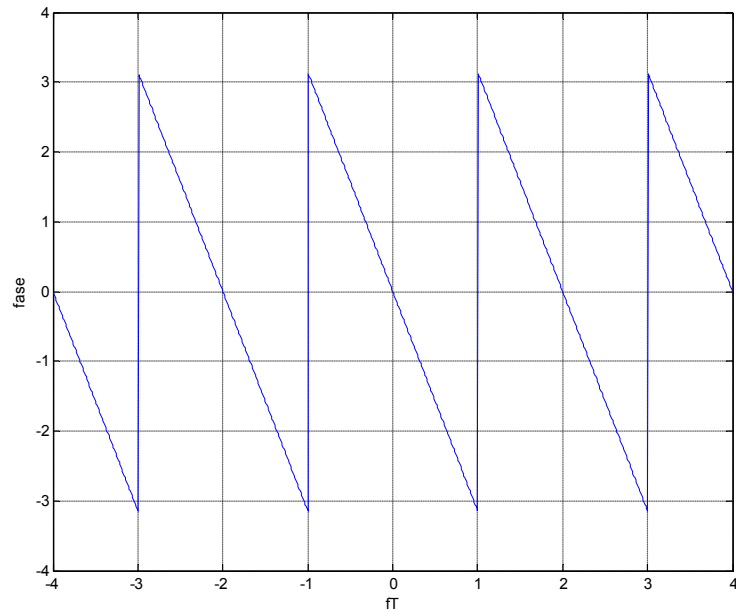
Avendo il segnale energia finita, la potenza è nulla.

2) Calcolare $H(f)$ e farne il grafico di modulo e fase.

$$H(f) = -\frac{1}{2}(1 + e^{-j2\pi fT}) + e^{-j\pi fT} = e^{-j\pi fT} (1 - \cos(\pi fT)) = 2e^{-j\pi fT} \sin^2\left(\frac{\pi fT}{2}\right)$$

Calcoliamo il modulo $|H(f)| = 2 \sin^2\left(\frac{\pi fT}{2}\right)$ e $\angle H(f) = -\pi fT$. Seguono i grafici. Ricordiamo che la fase va disegnata tra $-\pi$ e π .



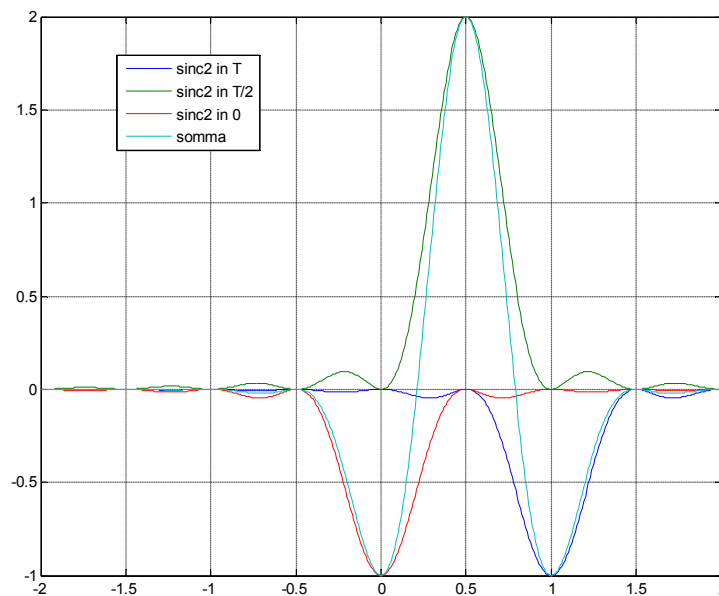


3) Calcolare l'espressione $y(t)$ del segnale di uscita del sistema LTI e farne il grafico per $B = \frac{2}{T}$;

$$y(t) = h(t) \otimes x(t) = -\frac{1}{2}B \operatorname{sinc}^2(B(t-T)) + B \operatorname{sinc}^2\left(B\left(t - \frac{T}{2}\right)\right) - \frac{1}{2}B \operatorname{sinc}^2(Bt)$$

Per $B = \frac{2}{T}$, $y(t) = -\frac{1}{T} \operatorname{sinc}^2\left(\frac{2}{T}(t-T)\right) + \frac{2}{T} \operatorname{sinc}^2\left(\frac{2}{T}\left(t - \frac{T}{2}\right)\right) - \frac{1}{T} \operatorname{sinc}^2\left(\frac{2}{T}t\right)$.

La figura sotto rappresenta $y(t)$ per $T=1$ sec.



4) Il sistema introduce distorsioni di ampiezza, poiché nella banda del segnale $H(f)$ non ha un modulo costante. Non introduce distorsioni di fase perché la fase è lineare.

Soluzione es. 2

1) Il filtro è un passa-basso. Calcoliamo la risposta in frequenza e il suo modulo

$$H_a(f) = H_a(s)|_{s=j2\pi f} = \frac{5}{(j2\pi f + 2k)} \text{ e } |H_a(f)| = \frac{5}{\sqrt{4\pi^2 f^2 + 4k^2}}$$

Per calcolare la banda a -3dB osserviamo che $|H_a(0)| = \frac{5}{2k}$. Per cui

$$\frac{|H_a(B_{-3})|^2}{|H_a(0)|^2} = \frac{25}{4\pi^2 B_{-3}^2 + 4k^2} \frac{4k^2}{25} = \frac{1}{2}.$$

Da ciò si ricava che $B_{-3} = \frac{k}{\pi}$.

2) La trasformazione bilineare è data da $s = \frac{2}{T} \frac{1-z^{-1}}{1+z^{-1}}$. Sostituiamo in $H_a(s)$

$$H(z) = \frac{5}{\frac{2}{T} \frac{1-z^{-1}}{1+z^{-1}} + 2k} = \frac{5(1+z^{-1})}{\frac{2}{T}(1-z^{-1}) + 2k(1+z^{-1})} = a \frac{z+1}{z+b}$$

con $a = \frac{5T}{2+2Tk}$ e $b = \frac{1-Tk}{1+Tk}$.

Il filtro converge per $|z| > \frac{|1-Tk|}{1+Tk} < 1$

3) Dalla funzione di trasferimento si ricava $Y(z)(1+bz^{-1}) = a(1+z^{-1})X(z)$ da cui poi

$$y(n) = -by(n-1) + ax(n) + ax(n-1)$$

Antitrasformando $H(z) = a \frac{z+1}{z+b}$ otteniamo

$$h(n) = a \left[b^n u(n) + b^{n-1} u(n-1) \right]$$

4) Abbiamo visto che la banda a -3dB del filtro analogico è data da $B_{-3} = \frac{k}{\pi}$. Si vuole che il filtro digitale abbia una banda $B=1/3$ KHz. A causa del warping sappiamo che la relazione tra la frequenza analogica f_a e quella digitale f è data da $f_a = \frac{1}{\pi T} \text{tg}(\pi f T)$. Tale relazione vale anche tra la banda a -3dB analogica e quella digitale, per cui

$$B_{-3} = \frac{k}{\pi} = \frac{1}{\pi T} \operatorname{tg}(\pi B T) = \frac{1}{\pi T} \operatorname{tg}\left(\frac{\pi}{3}\right) = \frac{\sqrt{3}}{\pi T}$$

Segue che $k = \frac{\sqrt{3}}{T} \simeq 1732 \text{ Hz}$